

一、選擇題（1至32題每題3分 33至34題每題2分）

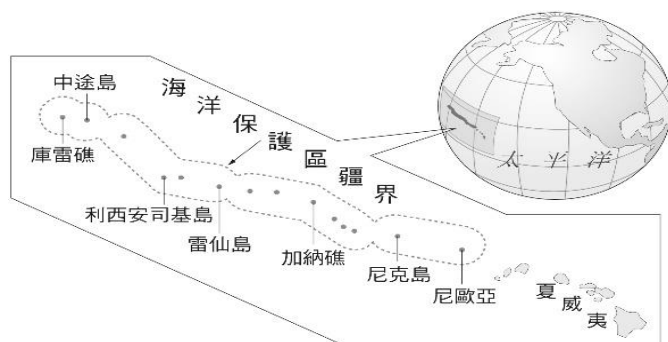
- ()01、馬達加斯加的語言屬於南島語系，從地理位置上來看，是分布在最西端的南島語族；但是根據研究，當地不論遺傳、語言或文化，都明顯還有來自鄰近大陸的黑人族裔影響。由此判斷，馬達加斯加是世界上兩大古老語族的交會處。請問：上述這兩大古老語族最可能是來自哪兩大洲？(A)歐洲、亞洲(B)亞洲、非洲(C)非洲、中南美洲(D)北美洲、亞洲。
- ()02、下列何者因同時擁有火山與冰河地形，地形多樣，被稱為「活的地形教室」？(A)澳洲(B)紐西蘭(C)美拉尼西亞島群(D)密克羅尼西亞島群



圖一

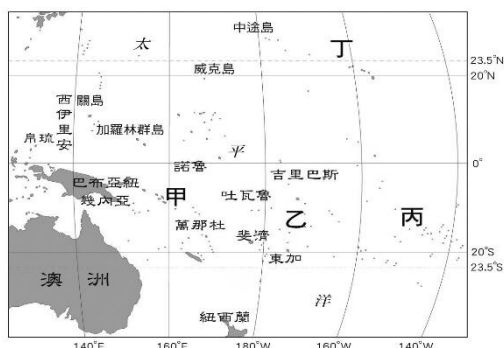


圖二

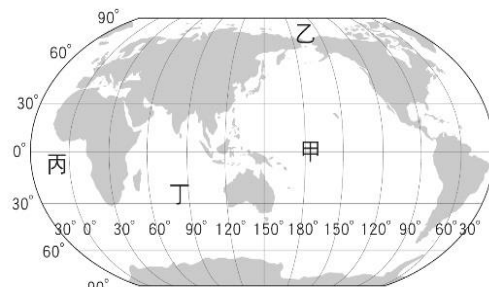


圖三


- ()03、附圖一為澳洲簡圖。若小明由X地往Y地直線旅行，沿途最不可能遇到何種氣候類型？(A)熱帶莽原氣候(B)夏雨型暖溫帶氣候(C)熱帶沙漠氣候(D)溫帶地中海型氣候。
- ()04、澳洲的阿南古原住民族，將位於附圖二中「甲」位置的艾爾斯岩稱作「烏魯魯」，該族人自古以來就視烏魯魯為聖山，並不斷懇求澳洲政府和各國遊客不要攀登，以維持這個在陽光下綻放紅色而古老的山岩神聖的一面。西元2019年10月26日，澳洲政府終於決定永久關閉，禁止遊客攀登艾爾斯岩。請問：依其位置判斷，昔日登上該岩塊的遊客最可能見到下列哪一種景緻？(A)疏林高草原(B)乾燥的漠地(C)廣袤的雨林(D)酷寒的冰河。
- ()05、西元2006年6月，美國總統宣布在大洋洲建立當時全世界最大的海洋保護區，其範圍由夏威夷群島西北方蜿蜒至中途島附近，如附圖三所示，面積約36萬平方公里，區內有許多島嶼和珊瑚礁，約有7000種海洋生物及1400萬隻海鳥生存其間。請問：美國設置該保護區的最主要目的最可能為下列何者？(A)發展海上觀光事業(B)維持海洋生態(C)擴大美國在大洋洲的勢力(D)擴大經濟海域的範圍。



圖四



圖五

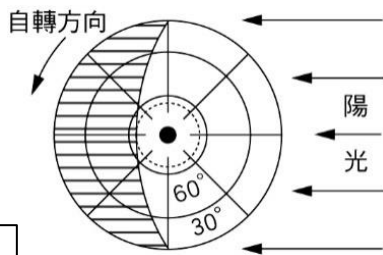


圖六

- ()06、報載「太平洋的索羅門群島，於當地時間4月2日7時40分發生規模8的強震(此時，澳洲東部時間為4月2日6時40分)，地震引發海嘯侵襲，導致嚴重傷亡。」根據上述判斷，所羅門群島最可能位於附圖四中哪一個位置？(A)甲(B)乙(C)丙(D)丁。
- ()07、大洋洲雖名為「洲」，但並非是一完整的陸塊，而是由眾多島嶼組成。請問：大洋洲是指附圖五哪一個區域？(A)甲(B)乙(C)丙(D)丁。
- ()08、「今年暑假爸爸帶我出國旅遊，在那裡除了成群的牛、羊外，我還在野生國家公園內與附圖六中的動物近距離接觸，真令人難忘。」上文是小玉的旅遊札記，依內容判斷，小玉此次參加的行程為何？(A)東澳風光悠遊(B)南歐熱情之旅(C)中國生態之旅(D)加拿大自然之旅。
- ()09、南極地區與北極地區皆處於極圈內，但南極的氣候卻比北極低，造成此現象的主要原因為何？(A)南極為一完整大陸且地勢較高(B)南極的人口較稀少(C)南極較不受地球暖化的影響(D)南極的降水較多。



圖十



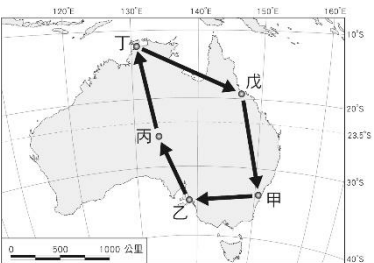
圖八

選項	特徵描述
(A) 地形	同時擁有火山與冰河地形
(B) 氣候	全年溼潤有雨，冬、夏溫差大
(C) 產業	畜牧業為主要產業活動
(D) 人口	人口稀少，勞力不足

- () 10、右上表關於紐西蘭的自然與人文特徵描述，何者錯誤？
- () 11、附圖七為宗佑參加繪畫比賽的投稿作品，其繪畫主題應與下列哪一個議題最相關？ (A) 全球暖化 (B) 颱風侵襲 (C) 土石流增加 (D) 水資源汙染。
- () 12、在兩極地區，夏季時會出現24小時日不落的現象，稱為「永晝」；冬季時則會有看不到日出的「永夜」現象。附圖八中畫線的區域表示黑夜，白色的區域表示有日照，請根據圖八判斷，此時正值哪一個月份？ (A) 3月 (B) 6月 (C) 9月 (D) 12月。

題組一：小妮前往澳洲自助旅行，附圖九為小妮所規劃的旅遊路線圖。請問：

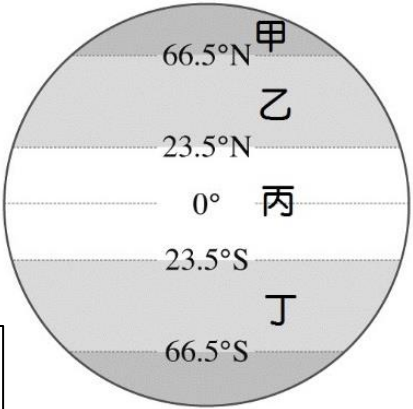
- () 13、小妮在旅遊的行程中，印象最深刻的是造型特殊而新穎的「雪梨歌劇院」。該地應位於何處？ (A) 甲 (B) 乙 (C) 丙 (D) 丁。
- () 14、小妮旅遊的行程中，在何處最有可能全年都可以享受海灘、陽光、海鮮大餐，以及珊瑚礁浮潛的水上活動？ (A) 甲 (B) 乙 (C) 丙 (D) 戊。
- () 15、在小妮的旅途中，在何地應該最為乾旱，且人煙稀少？ (A) 甲 (B) 乙 (C) 丙 (D) 丁。



圖九

題組二：臺灣是南島語族「原鄉」的概念已被廣泛接受，但南島語族從哪裡走出臺灣呢？根據考古資料顯示，有學者認為臺東的都蘭是四、五千年前南島語族航出臺灣時期的文化核心，贊成該理論的學者認為東海岸的原住民族駕著竹筏跨越黑潮，航向綠島、蘭嶼、恆春半島、巴丹、呂宋島，進而連結菲律賓、南海、印尼、馬達加斯加、密克羅尼西亞島群、玻里尼西亞島群等地區。請問：

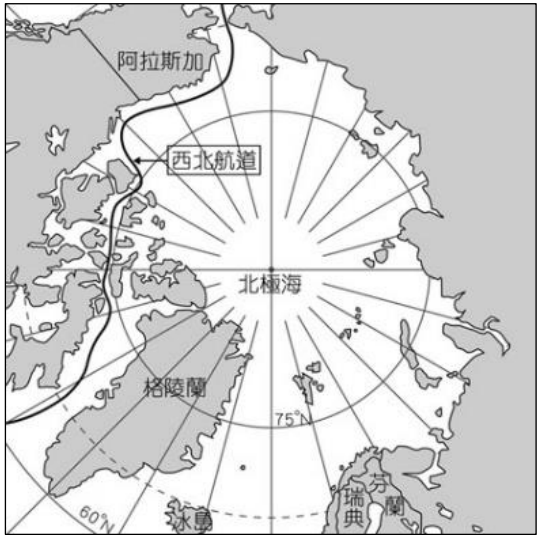
- () 16、文中提及東海岸的原住民族所指的最可能是下列哪一族群？ (A) 賽夏族 (B) 阿美族 (C) 泰雅族 (D) 鄒族。
- () 17、文中提及的南島語族，其分布區所涵蓋的範圍不包括下列哪一大洲？ (A) 亞洲 (B) 非洲 (C) 歐洲 (D) 大洋洲。
- () 18、文中提及的南島語族，其分布區多位於附圖十中哪一氣候帶內？ (A) 甲 (B) 乙 (C) 丙 (D) 丁。



圖十

題組三：附圖十一為北極地區地圖。請問：

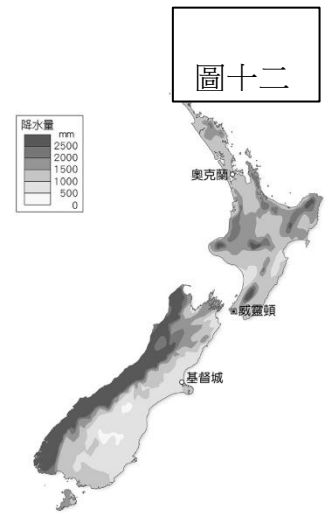
- () 19、西北航道是指從大西洋經北極海，進入太平洋的航道，可連結歐、亞、美三洲，請問這代表了北極擁有哪一項重要地位？ (A) 能源礦產 (B) 漁獵資源 (C) 原住民文化 (D) 交通航道。
- () 20、日前因北極海海床發現蘊含石油、天然氣等豐富資源，故俄羅斯逕自派出迷你潛艇，潛入北極點的深海，同時在海床插上特製國旗，已宣示該國主權，此舉引起周圍其他國家不滿。請問：此周圍國家最不可能是下列何者？ (A) 帛琉 (B) 挪威 (C) 加拿大 (D) 美國。



圖十一

題組四：附圖十二是紐西蘭的降水分布圖。請問：

- () 21、圖十二中降水量的分布主要受哪兩項因素影響？(A) 緯度、洋流 (B) 地形、風向
(C) 緯度、距海遠近 (D) 地形、距海遠近。
- () 22、由圖十二可知，紐西蘭最濕冷的地區在何處？(A) 北島西岸 (B) 北島東岸
(C) 南島西岸 (D) 南島東岸。



題組五：澳洲為世界重要農牧礦產品出口大國。請問：

- () 23、澳洲的礦產資源豐富，出口的礦產以下列何種礦物最多？
(A) 煤 (B) 鐵 (C) 黃金 (D) 鑽石。
- () 24、「某國在改革開放後，經濟成長速度飛快，由於國內原料不敷使用，近年大量從澳洲進口礦產，成為澳洲能源礦最大的出口市場。」某國最可能為何？
(A) 印度 (B) 日本 (C) 中國 (D) 俄羅斯。
- () 25、關於澳洲經貿夥伴的說明，何者正確？(A) 早期以鄰近的紐西蘭為最主要經貿往來對象 (B) 不論過去與在經貿往來夥伴皆平均分布全球各國 (C) 美國長期以來一直是澳洲最大的出口對象
(D) 出口對象由早期的英國逐漸轉移至亞洲。
- () 26、澳洲地廣人稀，物產豐富，下列關於其近年經濟發展特色的說明，何者最正確？(A) 水稻農業為立國基礎
(B) 欄牧業為立國基礎 (C) 農、牧、工、礦等產業均衡發展 (D) 資訊業、生物科技等產業為立國基礎。

題組六：附圖十三為荷蘭鹿特丹 到美國舊金山的兩條海運航線，甲航線為目前的航

線，而距離較短的乙航線經過北極海海域，以往多處於冰封狀態，但現今在夏季時已可容許部分船隻航行，甚至未來該航線可能全年皆可通行。請問：

- () 27、現今乙航線經過的海域，冰雪消融的情況愈來愈顯著，未來甚至可能全年皆可通行。造成此現象的主要原因為何？(A) 酸雨嚴重 (B) 水源汙染
(C) 全球暖化 (D) 臭氧層破洞。
- () 28、若乙航線暢通後，從荷蘭的鹿特丹至美國的舊金山，將不需要走「甲航線」，也就是不再需要穿越哪一洲？(A) 非洲 (B) 亞洲 (C) 南極洲 (D) 中南美洲

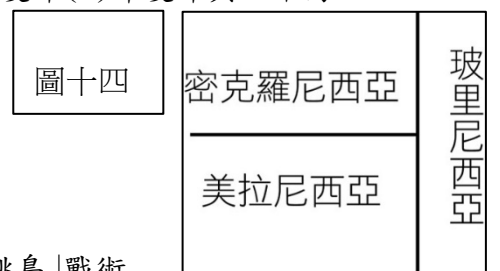


圖十三

- () 29、甲航線與乙航線皆會經過下列哪兩個大洋？(A) 大西洋與太平洋 (B) 太平洋與印度洋 (C) 印度洋與地中海
(D) 大西洋與印度洋。

題組七：附圖十四為大洋洲三大島群位置示意圖。請問：

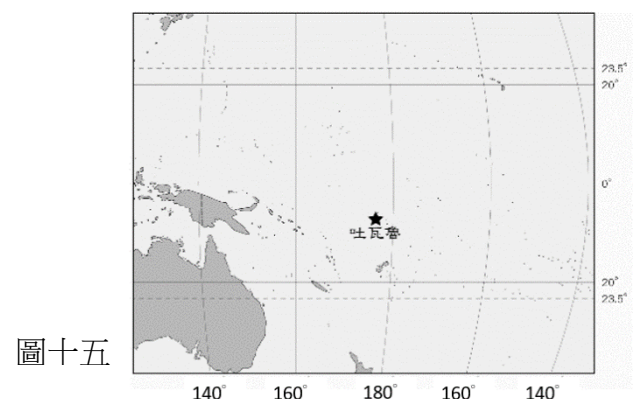
- () 30、位於西半球的夏威夷為美國唯一地處熱帶地島洲，該地屬於大洋洲的哪一個島群？(A) 玻里尼西亞 (B) 密克羅尼西亞 (C) 美拉尼西亞 (D) 澳大利亞。
- () 31、第二次世界大戰後期，美軍為加速逼近日本本土，並減少盟軍損失，執行了「跳島」戰術選擇奪取日軍在大洋洲島群的重要島嶼，且發生許多重要的戰役。請問：依上述，顯示大洋洲中的島嶼具有下列何種價值？(A) 經濟海域的擴張 (B) 帶動觀光業 (C) 交通、戰略地位重要 (D) 可移動國內過多之人口。
- () 32、大洋洲的低島，其面積通常不大，這些島嶼的主要經濟活動為下列何者？(A) 農業與礦產開採
(B) 漁業和觀光資源 (C) 牧業和水產養殖 (D) 礦業和森林採集。



圖十四

題組八：位於太平洋上的吐瓦魯，是由九個環狀珊瑚礁島所組成，該國地勢極低，最高處海平面不超過四公尺，因此吐瓦魯政府頗重視海岸線的維護，深怕國土遭到海水大量覆蓋。然而最後吐瓦魯政府依然無奈宣布，該地居民將會撤出該群島。附圖十五為吐瓦魯位置圖。請問：

- () 33、根據附圖十五，吐瓦魯應位於下列何處？(A) 東半球、北半球
(B) 西半球、北半球 (C) 西半球、南半球 (D) 東半球、南半球。
- () 34、吐瓦魯領導人表示，他們對抗環境變遷的努力已失敗，將放棄自己的家屬，舉國移民紐西蘭。請問：所謂的環境變遷最有可能是下列何者？(A) 海平面上升 (B) 火山爆發 (C) 酸雨侵蝕 (D) 臭氧層破洞。



圖十五